

**ENSAYO
CIENCIAS SOCIALES**

PSU N° 03 UNIVERSIA - Historia y Ciencias Sociales

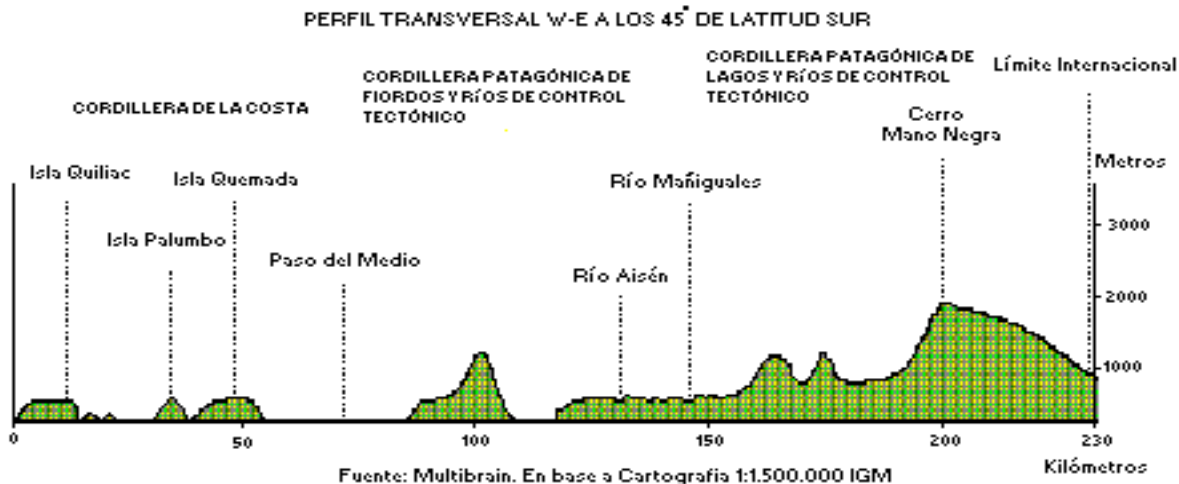
1. El clima se encuentra condicionado por diversos factores. De los siguientes, señale aquel que explica la disminución de las temperaturas hacia el sur del país:
 - A) La gran extensión longitudinal de nuestro territorio.
 - B) La influencia del Océano Pacífico.
 - C) El fenómeno del Niño.
 - D) La vaguada costera.
 - E) La cercanía del polo sur.

2. "...una toxina que ingresa al organismo de los moluscos a través del proceso de filtración de aguas que realizan para alimentarse. Esta sustancia es venenosa para el hombre, de naturaleza química y, además, termorresistente. Sus consecuencias para el hombre son diarreicas y paralizantes, comprometiendo diversas funciones vitales, lo que puede causar la muerte".
El texto describe
 - I. un fenómeno que se concentra principalmente en la zona sur austral del país.
 - II. la marea roja.
 - III. el fenómeno de la niña.
 - A) Sólo I
 - B) Sólo II
 - C) Sólo III
 - D) Sólo I y II
 - E) Sólo II y III

3. "La zona se encuentra a los 4.000 metros de altura; en ella destacan especies y formaciones vegetacionales como la llareta, el coirón y los bofedales; la fauna está representada principalmente por auquénidos y parinas (flamenco andino)".
El texto anterior describe la siguiente región natural:
 - A) La estepa de altura del Norte Grande.
 - B) La región de los bosques relictos en el Norte Chico.
 - C) El bosque maulino de la Zona Central.
 - D) La selva valdiviana en su sector cordillerano.
 - E) Los bosques de lenga de Tierra del Fuego.

4. Entre los objetivos que persigue el proceso de Regionalización que actualmente se implementa en el país, podemos considerar
 - I. favorecer la integración nacional.
 - II. propender a un eficiente sistema de seguridad nacional.
 - III. impulsar un desarrollo económico favoreciendo sólo los extremos del país.
 - A) Sólo II
 - B) Sólo III
 - C) Sólo I y II
 - D) Sólo II y III
 - E) I, II y III

5. El siguiente perfil transversal del territorio nacional corresponde a la Zona Austral del país; y en él podemos apreciar claramente



- A) la meseta patagónica.
 B) el activo volcanismo de la región.
 C) la zona de costa pareja.
 D) las mayores alturas del país.
 E) los efectos de la erosión glacial.
6. La población chilena se distribuye muy desigualmente en el territorio, debido a diferentes factores. Al respecto, indique la proposición verdadera:
- A) La población del Norte Grande habita mayoritariamente en la Depresión Intermedia.
 B) En la Zona Sur la población se ubica en el Seno de Reloncaví.
 C) En la Zona Austral la mayoría de sus habitantes se localiza en el Transpaís andino
 D) En las regiones IV, V y VIII el poblamiento es predominantemente interior.
 E) En la Zona Central la población habita en las cuencas de la Cordillera costera.
7. Respecto del hábitat urbano y de las ciudades en Chile, podemos reconocer como correcta(s) alguna(s) de las siguientes afirmaciones:
- I. El fenómeno de conurbación lo representan: Coquimbo-La Serena; Valparaíso-Viña; y Concepción-Talcahuano.
 - II. Las grandes ciudades tienden a recibir una gran cantidad de migrantes debido a su mayor oferta de trabajo.
 - III. En las grandes urbes, sus centros históricos concentran una diversidad de servicios.
- A) Sólo I
 B) Sólo II
 C) Sólo I y II
 D) Sólo II y III
 E) I, II y III
8. Las migraciones internas han sido un factor muy dinámico en la distribución de la población chilena; si bien han ocasionado problemas por el explosivo crecimiento urbano, también han significado múltiples beneficios para los migrantes y para el país. Entre los aspectos **positivos** de las migraciones internas tenemos
- A) una mejor distribución de la población en el territorio.
 B) acceso más expedito de los migrantes a la educación y a la salud.
 C) una ocupación más eficiente del suelo en las regiones centrales.
 D) el problema de la marginalidad y hacinamiento
 E) una mejoría en la condición de vida de todos los migrantes.

9. La Zona Central es la de mejores aptitudes agrícolas del país; sin embargo, ella no está exenta de problemas y limitaciones. Sobre la agricultura de las regiones centrales es correcto afirmar que

- I. se ve favorecida por suelos de excelente calidad.
- II. a veces se ve severamente afectada por sequías o heladas.
- III. la distancia de los mercados de consumo impide su exportación.

- A) Sólo I
- B) Sólo II
- C) Sólo III
- D) Sólo I y II
- E) I, II y III

10. “La característica más notable del territorio en estudio es la existencia de una meseta central, la cual forma un bloque con una altitud de más de 2500metros en su extremo meridional y 1200metros en el norte. Al sur de dicha meseta hay una accidentada región montañosa cuyos picos más elevados sobrepasan los 2100metros, constituyendo una región de gran actividad volcánica y sísmica”. La descripción de la morfología territorial pertenece a la siguiente área geográfica de América:

- A) Las llanuras costeras del Atlántico norteamericano.
- B) El relieve de México central
- C) La orilla del Pacífico de América del Sur.
- D) América Central y las Antillas.
- E) La Sierra Maestra, al sur de Cuba.

11. El país sudamericano que aparece sombreado y sindicado con el numero 1 corresponde a

- A) Venezuela.
- B) Colombia.
- C) Paraguay.
- D) Bolivia.
- E) Colombia.

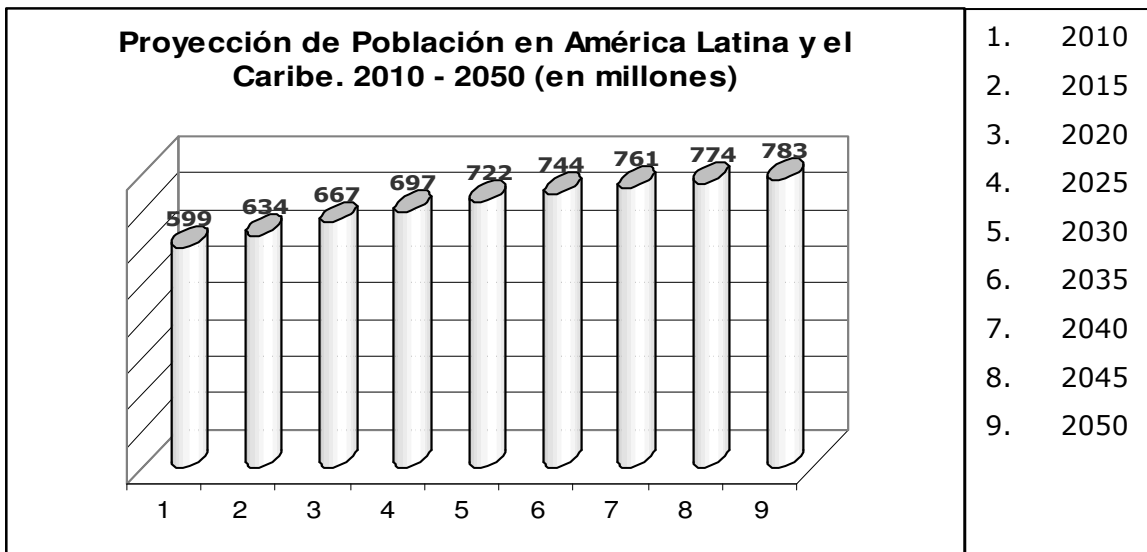


12. Respecto de los indicadores demográficos de América Latina, podemos considerar correcto que la

- I. tasa de natalidad es más alta en América Central que en los países del Cono Sur.
- II. mortalidad general ha bajado en forma rápida para el conjunto de los países.
- III. esperanza de vida en casi todos los países ha alcanzado los niveles de Europa y EE.UU.

- A) Sólo I
- B) Sólo II
- C) Sólo I y II
- D) Sólo II y III
- E) I, II y III

13. Los recursos mineros y energéticos son importantes en todo el continente americano constituyéndose en la base económica de muchos países. Aquel(los) que destaca(n) en este ámbito es(o son):
- I. Chile gran productor de cobre.
 - II. Venezuela y México principales productores de petróleo.
 - III. Bolivia gran potencial gasífero.
- A) Sólo I
 - B) Sólo II
 - C) Sólo III
 - D) Sólo I y II
 - E) I, II y III
14. De acuerdo a lo observado en el gráfico que se acompaña, podemos concluir que la población de Latinoamérica y el Caribe

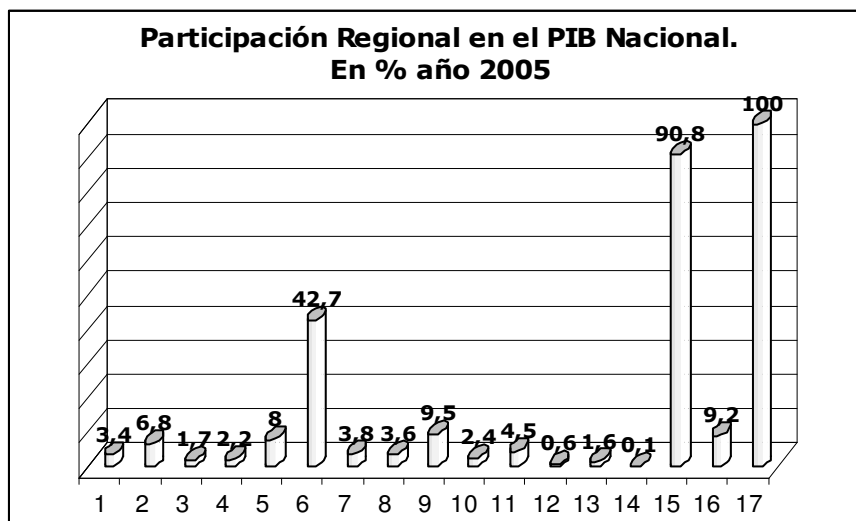


Fuente: Cepal: Anuario Estadístico 2006.

- A) iniciará una etapa de crecimiento regresivo.
 - B) se encuentra en pleno proceso de envejecimiento.
 - C) experimentará un aumento de la natalidad y del crecimiento.
 - D) con el tiempo vivirá una fase de explosión demográfica.
 - E) reducirá paulatinamente su nivel de crecimiento.
15. La distribución de la **población mundial** presenta contrastes muy marcados entre las regiones deshumanizadas y las zonas de gran ecúmene. De las siguientes seleccione aquella(s) que corresponde(n) a desierto(s) demográfico(s).
- I. Sudeste asiático.
 - II. El Sahara.
 - III. La Antártica.
- A) Sólo II
 - B) Sólo I y II
 - C) Sólo I y III
 - D) Sólo II y III
 - E) I, II y III

16. Partiendo de las siguientes afirmaciones, señale la opción que incluye a algunas de las características del sistema de libre-mercado, hoy conocido como modelo neoliberal:
- I. protege la industria nacional.
 - II. rechaza el “desarrollo sustentable”.
 - III. busca la disminución de las tasas arancelarias.
- A) Sólo I
 - B) Sólo III
 - C) Sólo I y II
 - D) Sólo II y III
 - E) I, II y III
17. El problema económico, se puede resumir en que
- A) los bienes son escasos y limitados en relación con necesidades múltiples, crecientes e ilimitadas.
 - B) la demanda efectiva de bienes es menor que la cantidad de circulante disponible.
 - C) los recursos para producir bienes se destinan a tareas no productivas.
 - D) las leyes del mercado son constantemente alteradas, tanto por el Estado como por particulares.
 - E) los bienes disponibles no son repartidos de acuerdo con las leyes de la oferta y demanda.
18. Cuando se afirma que la mayor parte de la población económicamente activa de un país, región o ciudad, trabaja en el sector secundario, se está diciendo que ella se concentra principalmente en
- A) el comercio.
 - B) la industria.
 - C) el transporte.
 - D) la agricultura.
 - E) la minería.
19. Los yacimientos más importantes y los mayores volúmenes de producción del sector estatal de la **gran minería del cobre**, administrado por Codelco, se localizan en la(s) siguiente(s) Región(es):
- I. Coquimbo.
 - II. Libertador Bernardo O’Higgins.
 - III. Antofagasta.
- A) Sólo II
 - B) Sólo III
 - C) Sólo I y II
 - D) Sólo I y III
 - E) Sólo II y III
20. “Comercio exterior con fuerte ritmo. La comercialización de productos en el extranjero continúa dando buenos resultados a Chile. De acuerdo al Banco Central, la balanza comercial anotó en los primeros 23 días de julio un superávit de US\$501 millones. Con ello ya acumula en lo que va en el año un saldo positivo de US\$5.533 millones, con envíos por US\$21.536 millones y compras por US\$16.003 millones”.
- Diario La Hora.**
- La noticia sobre la realidad económica de Chile, nos señala que en el primer semestre
- A) existe déficit presupuestario y un alza en el valor del dólar.
 - B) las importaciones son mayores que las exportaciones, hay un déficit.
 - C) las exportaciones son mayores que las importaciones, hay un superávit.
 - D) el bajo nivel de compras inquieta al Banco Central, pues redundando en un déficit fiscal.
 - E) el Banco Central debe disminuir el gasto para bajar las importaciones.

21. El siguiente gráfico nos muestra la participación de las Regiones en el Producto Interno Bruto (PIB) del país. Conforme a él, y considerando la realidad económica del país, podemos concluir que



1. I De Tarapacá
2. II De Antofagasta
3. III De Atacama
4. IV De Coquimbo
5. V De Valparaíso
6. Región Metropolitana Santiago
7. VI Del Lib. Gral. B O'Higgins
8. VII Del Maule
9. VIII Del Biobío
10. IX De la Araucanía
11. X De Los Lagos
12. XI De Aysén del Gral. C. Ibáñez
13. XII De Magallanes y de la Antártica Chilena.
14. Extra regional
15. Subtotal regionalizado
16. IVA, derechos de Importación y otros
17. PIB

- I. los mayores aportes al PIB proceden de las regiones mineras.
- II. las que más producen son las regiones más industrializadas.
- III. las regiones centrales superan los 2/3 del PIB nacional.

- A) Sólo I
- B) Sólo II
- C) Sólo III
- D) Sólo II y III
- E) I, II y III

22. Chile es uno de los países de economía más abierta en el mundo y de los que más Tratados de Libre Comercio (TLC) ha suscrito con otros países. En mayo de este año 2007 acaba de firmarse un TLC con una de las grandes potencias del mundo que podría reportar grandes beneficios para el país. Se trata de

- A) la APEC.
- B) el Japón.
- C) los EE.UU.
- D) Europa
- E) el MERCOSUR.

RAÍCES HISTÓRICAS DE CHILE.

23. ¿Cuál(es) de los elementos que a continuación se mencionan constituye(n) un(os) rasgo(s) característico(s) de las altas culturas precolombinas Azteca e Inca?

- I. Una religión monoteísta y solar.
- II. La estratificación social jerarquizada.
- III. La irrigación artificial.

- A) Sólo I
- B) Sólo II
- C) Sólo I y II
- D) Sólo I y III
- E) Sólo II y III

24. "Pueblo prehispánico del extremo sur del territorio nacional, organizado en bandas nómades y dedicado a la navegación". Es una descripción de los
- A) Onas.
 - B) Changos.
 - C) Yaganes.
 - D) Tehuelches.
 - E) Selk'nam.
25. "En verdad no eran dioses pero se decían hijos de Dios, creador de la tierra y de los cielos, el cual se había encarnado y como hombre había sido crucificado para salvar a la humanidad. Eran hombres sencillos, humildes, ignorantes y vulnerables, pero movidos por el incontenible afán de grandeza y expansión humana que caracterizaba la Europa de los siglos XV y XVI, y cuyo espíritu buscaba romper la estrechez de su marco geográfico". **Enrique Zorrilla: Gestación de Latinoamérica.**
En concordancia con el texto precedente se puede afirmar que
- I. muchos de los conquistadores fueron hombres de clases bajas, pero no exentos de ambición.
 - II. se está caracterizando los ideales de la alta burguesía capitalista.
 - III. el afán de riqueza se contrapone al ideal evangelizador que le caracteriza.
- A) Sólo I
 - B) Sólo II
 - C) Sólo III
 - D) Sólo I y III
 - E) I, II y III
26. La expedición descubridora de Chile encabezada por Diego de Almagro fue motivada, entre otras circunstancias por
- I. la creciente disputa entre Diego de Almagro y Francisco Pizarro.
 - II. la ambición expresada por Valdivia de venir antes que Almagro.
 - III. el deseo de encontrar tierras tan ricas como las Incas, al sur del Perú.
- A) Sólo I
 - B) Sólo II
 - C) Sólo I y II
 - D) Sólo I y III
 - E) I, II y III
27. "Descendientes de los conquistadores, heredaron grandes posesiones territoriales; eran poseedores de indios encomendados y de esclavos. Económicamente formaban un grupo muy poderoso. Políticamente, en cambio, sólo tuvieron influencia en el Cabildo, donde aseguraban su participación mediante la compra de cargos".
El grupo de la sociedad colonial, al cual el texto anterior hace referencia, son los
- A) Españoles.
 - B) Criollos.
 - C) Indígenas.
 - D) Mestizos.
 - E) Mulatos.

28. Se define la Encomienda como: "...un derecho concedido por real merced a los beneméritos de las Indias para cobrar y percibir para sí los tributos de los indios que se les encomendaren por sus vidas y las de un heredero, conforme a la ley de sucesión, con cargo de cuidar del bien de los indios en lo espiritual y temporal, y de habitar y defender las provincias donde fueren encomenderos y hacer de cumplir todo esto..."

Juan de Solórzano Pereira: Política Indiana.

De esta definición se infiere que

- I. el indígena debía tributar trabajando para un español.
- II. los encomenderos podían ceder sus derechos a cualquiera de sus familiares.
- III. la Corona española obliga a los encomenderos a cumplir funciones militares.

- A) Sólo II
- B) Sólo I y II
- C) Sólo I y III
- D) Sólo II y III
- E) I, II y III

29. El siglo XVIII en la Colonia fue muy provechoso, porque se realizaron numerosas innovaciones en el plano material y en el político. Entre estas innovaciones figura(n)

- I. la acuñación de monedas por primera vez en el país.
- II. enriquecimiento arquitectónico de Santiago.
- III. el nombramiento de Gobernadores Ilustrados.

- A) Sólo I
- B) Sólo II
- C) Sólo III
- D) Sólo I y II
- E) I, II y III

30. Santiago, 1 de julio de 1808.

Señor José Miguel Infante. Por encargo del señor don Juan Egaña, me apresuro a devolverle con su hijo, el señor don Mariano, los libros que tuvo la amabilidad de facilitarme. Recomiendo a usted la doctrina de Bayle y de D'Alembert, donde encontrará usted cosas útiles que no aminoran nuestras santas creencias. En la conformidad de que usted avisará al señor don Juan la vuelta de los libros, me presento a usted como su amigo.

Fray Javier de Guzmán.

Santiago, 9 de Septiembre de 1809.

Señor don José Antonio de Rojas. Señor de mi aprecio. Mi viaje fuera de la ciudad me impidió poner en las generosas manos de usted la "Decadencia" de Montesquieu, y me apresuro a hacerlo hoy con el propio (mensajero) que le envió. Tenga la amabilidad de expresarme si en su poder hay otros libros de buena lectura para decirle a los amigos.

Fray Javier de Guzmán.

De la lectura de ambas cartas podemos señalar que

- I. el autor de las cartas se ve interesado por los escritores ilustrados.
- II. hay una gran cantidad de libros disponibles para ser leídos por los criollos.
- III. las ideas expuestas en los libros atentan contra las ideas religiosas de los criollos.

- A) Solo I
- B) Sólo II
- C) Sólo III
- D) Sólo I y II
- E) Sólo II y III

31. “Querido amigo: creo haber tenido el placer de informar a usted antes de ahora que Chile se había declarado independiente, aunque no ha habido tal. Se ha dictado una Constitución provisoria, que encierra todos los principios liberales, pero en la que se reconoce la soberanía del Rey. Se dice que esta medida es necesaria por el momento, hasta que puedan conseguir fuera las armas de que carecen...”
“Carta de S. Johnston”.

De acuerdo a la carta citada se puede inferir que

- I. se refiere al Reglamento Constitucional de 1812.
- II. describe la constitución de la Primera Junta Nacional de Gobierno.
- III. existía un propósito oculto de independencia.

- A) Sólo I
- B) Sólo II
- C) Sólo III
- D) Sólo I y III
- E) I, II y III

32. El período de la historia de Chile que sucedió a la Independencia, conocido como “Anarquía” o “de búsqueda de una organización republicana”, se puede caracterizar a través del (de los) siguiente(s) rasgo(s) general(es):

- I. déficit fiscal y descenso de la producción agropecuaria.
- II. cambios reiterados de gobierno y de organización política.
- III. ausencia de caudillismo y de conflictos políticos.

- A) Sólo I
- B) Sólo I y II
- C) Sólo I y III
- D) Sólo II y III
- E) I, II y III

33. La cultura y las letras experimentaron un notable desarrollo durante el gobierno de Manuel Bulnes, que se concretó en el movimiento intelectual de 1842. Contribuyó a este desarrollo la

- A) prosperidad, la paz y la tranquilidad social del país.
- B) llegada a Chile de pensadores y escritores conservadores.
- C) existencia de importantes partidos políticos.
- D) consolidación de la mesocracia.
- E) promulgación de la ley de Instrucción Primaria Obligatoria.

34. “Hay que desconfiar de esos señores que muy bien aprueban la obra de nuestros campeones de la liberación, sin habernos ayudado en nada. He aquí la causa de mi temor: ¿Por qué ese afán de Estados Unidos de acreditar ministros delegados y en reconocer la independencia de América sin molestarse ellos en nada? ¡Vaya un sistema curioso! Yo creo que todo esto obedece a un plan combinado de antemano; y eso sería así: hacer la conquista de América, no por las armas sino por la influencia en toda esfera. Esto sucederá, tal vez hoy no, pero mañana sí. No conviene dejarse halagar por estos dulces que los niños suelen comer con gusto sin cuidarse de un envenenamiento”.

En esta carta que Diego Portales escribe a su socio José M. Cea desde Lima, se puede observar

- I. la preocupación de Portales por nuestros próceres de la Independencia.
- II. el carácter antiimperialista del pensamiento portaliano.
- III. una clara comprensión de la política internacional.

- A) Sólo I
- B) Sólo II
- C) Sólo I y II
- D) Sólo II y III
- E) I, II y III

35. "En 1853 se establece la primera Empresa Nacional de Seguros. En 1855 se crea la Caja de Crédito Hipotecario destinada a fomentar la agricultura. El mismo año se funda el Banco de Valparaíso, luego el Banco de Chile. En 1860 la ley autoriza el libre establecimiento de Bancos Privados".

Godoy Urzúa, H. "Estructura Social de Chile".

Del texto se infiere que una de las características de la economía chilena en la segunda mitad del siglo XIX fue

- A) el gran auge de la agricultura.
 - B) la obligación de asegurar los bienes.
 - C) la organización del crédito y la banca.
 - D) la fundación de Bancos estatales.
 - E) el desarrollo de una política hipotecaria.
36. Entre las consecuencias de la victoria chilena en la Guerra del Pacífico, se puede señalar la
- A) ampliación del territorio chileno hacia la Patagonia.
 - B) intensa migración de población al norte.
 - C) participación del capital norteamericano en la economía nacional.
 - D) incorporación de la Isla de Pascua.
 - E) migración rural-urbana.
37. "El señor Balmaceda está empeñado en adquirir para su nombre la gloria de haber cruzado el país a lo ancho y a lo largo de caminos de hierro, de haber levantado palacios para la instrucción, aumentado el material para la marina y el ejército, abierto puertos y construido diques: en suma, haber dado impulso vigoroso al progreso industrial y material. Pero en esa prodigalidad espléndida, en ese reparto fastuoso de millones en obras de mera utilidad y de dudosa conveniencia, no ha reservado un solo maravedí para mejorar la situación económica del país, para aliviar al pueblo de la carga abrumadora de los impuestos, para acelerar la conversión metálica, para procurar el bienestar general con la disminución de la miseria" ("Antes lo necesario que lo conveniente", El Estandarte Católico, 4 de junio de 1889).
El citado artículo de prensa critica al presidente Balmaceda porque
- I. el país tenía otras necesidades prioritarias.
 - II. lo consideraba más preocupado de la gloria personal que de los problemas reales del país.
 - III. defendía los intereses del imperialismo inglés.
- A) Sólo I
 - B) Sólo II
 - C) Sólo I y II
 - D) Sólo I y III
 - E) I, II y III
38. Arturo Alessandri Palma, durante su primer gobierno (1920-1925), enfrentó graves dificultades que provocaron un clima de crisis económica, social y política. De las siguientes alternativas, ¿cuál representa uno de los problemas más serios que tuvo que afrontar durante este período?
- A) La pérdida de los mercados de trigo en Australia y California.
 - B) La crisis del salitre que causó paralización de faenas y cesantía.
 - C) El agravamiento de los problemas limítrofes con Argentina (Laguna del desierto).
 - D) La existencia de un fuerte aparato estatal que provocaba burocracia.
 - E) El marcado presidencialismo del régimen político.

39. “Los dueños de Chile somos nosotros mismos, los dueños del capital y del suelo. El resto son las masas que pueden ser influidas y vendidas, ellas no cuentan como opinión, ni como prestigio”.

Eduardo Matte artículo publicado en el periódico “El ferrocarril”, el 28 de marzo de 1889.

El autor del texto sostiene que:

- I. quien tenga el poder económico puede emitir opinión.
- II. las masas eran corruptibles y susceptibles de cohecho.
- III. el país estaba maduro para la democracia.

- A) Sólo I
- B) Sólo II
- C) Sólo III
- D) Sólo I y II
- E) I, II y III

40. La fotografía adjunta nos ilustra las precarias condiciones de vida de la clase obrera de principios del siglo XX, y que se evidencia en los tipos de vivienda que ellos solían ocupar. Estas recibieron el nombre de

- A) Conventillos
- B) Callampas.
- C) Campamentos.
- D) Suburbios.
- E) Poblaciones.



41. El desarrollo de la clase media chilena en el siglo XIX y primeras décadas del XX, se vio favorecido por

- I. la política educacional del gobierno y el llamado “Estado Docente”.
- II. el aumento del número de funcionarios de la administración pública.
- III. la expansión del comercio.

- A) Sólo I
- B) Sólo II
- C) Sólo III
- D) Sólo I y II
- E) I, II y III

42. El valor de la CORFO, la importancia de la reforma agraria y la nacionalización del cobre, fueron medidas económico-sociales que aún despiertan encendidos debates; esto se debe entre otras cosas porque

- I. durante la Reforma Agraria, muchas personas fueron expropiadas perdiendo gran parte o la totalidad de sus tierras.
- II. existían, y continúan existiendo, diferentes conceptos sobre cual debe ser el rol del Estado en la economía.
- III. la nacionalización del cobre alejó definitivamente la participación de capitales extranjeros en el desarrollo económico nacional.

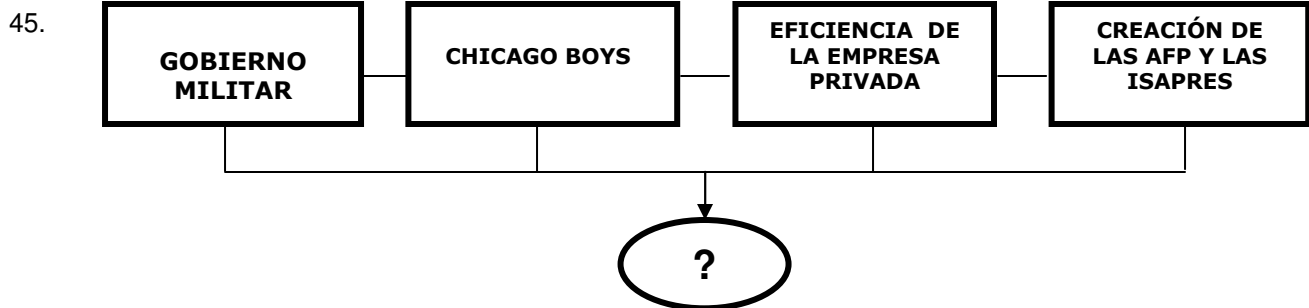
- A) Sólo I
- B) Sólo II
- C) Sólo I y II
- D) Sólo II y III
- E) I, II y III

43. El conglomerado de partidos denominado Unidad Popular, integrado por el Socialista, el Comunista, y el Radical, y otros de menor arrastre, sostuvo la candidatura presidencial de Salvador Allende en 1970. Sobre este gobierno, indique la proposición que **NO** corresponde:
- A) Pretendió realizar profundas reformas sin contar con el respaldo parlamentario necesario.
 - B) Algunas de las reformas intentadas, agudizaron los conflictos sociales y políticos que el país vivía desde antes.
 - C) Entre sus mayores logros se cuentan la nacionalización del cobre y los planes de protección a la infancia.
 - D) Profundizó la reforma agraria que había recibido fuerte impulso en el gobierno anterior.
 - E) Durante su gobierno se creó el Banco del Estado y la Contraloría General de la República.

44. “Los gobiernos del período 1938-1952, a pesar de su composición política y del papel empresarial asumido por el Estado, se mantuvieron dentro de un esquema capitalista que, como tal, difería mucho del intervencionismo de tipo socialista que tanto temía la derecha política. Con una visión desarrollista, pero sin llegar a cambiar las estructuras, el gobierno del Frente Popular, así como los sucesivos gobiernos radicales, intentaron elevar el nivel de vida de los sectores más débiles a través de un proceso de industrialización que crearía nuevos puestos de trabajo y permitiría alcanzar el bienestar de todos los ciudadanos. No pretendía como muchos creyeron, "mitigar las necesidades de los pobres a costa de los ricos" (...)”
- Mariana Aylwin. Chile en el siglo XX.**
- Tras la lectura del texto podemos concluir que

- I. los gobiernos radicales impusieron un modelo desarrollista transformando al Estado en empresario.
- II. los gobiernos del Frente Popular llevaron a cabo cambios estructurales modificando la tenencia de la tierra.
- III. la política económica implementada bajo los gobiernos radicales pretendió mitigar las necesidades de los pobres a costa de los ricos.

- A) Sólo I
- B) Sólo II
- C) Sólo III
- D) Sólo I y III
- E) Sólo II y III



Los anteriores conceptos usted los asocia a un modelo económico, denominado

- A) Proteccionista.
- B) Mixto.
- C) De desarrollo sustentable.
- D) Neoliberal.
- E) Estatista.

46. "Conjunto de principios, preceptos y reglas a que están sometidas las relaciones humanas en toda sociedad civil y a cuya observación pueden ser compelidos los individuos por la fuerza".
La definición anterior corresponde al concepto de:
- A) Derecho.
 - B) Ley.
 - C) Soberanía.
 - D) Nación.
 - E) Estado.
47. Las fuentes de la Nacionalidad son usualmente divididas en originarias y derivadas, destacamos en las primeras a
- I. Jus sanguinis.
 - II. Naturalización.
 - III. Jus solis.
- A) Sólo I
 - B) Sólo II
 - C) Sólo I y III
 - D) Sólo II y III
 - E) I, II y III
48. "...La misma persona es, a la vez, Jefe de Estado y Jefe de Gobierno; los Ministros no son responsables políticamente ante las Asambleas. Existe -en teoría- una separación de los poderes constituidos..."
Carlos Cruz-Coke, Manual de Educación Cívica.
- El párrafo anterior permite concluir que
- I. se hace referencia a un régimen de gobierno presidencial.
 - II. los Ministros son responsables políticamente sólo ante el Jefe de Estado y de Gobierno.
 - III. aunque los poderes del Estado se manifiestan separados, una persona controla dos poderes al mismo tiempo; el Gobierno y el Parlamento.
- A) Sólo I
 - B) Sólo II
 - C) Sólo III
 - D) Sólo I y II
 - E) I, II y III
49. La Constitución Política de Chile consagra una serie de derechos. Entre ellos se cuenta(n):
- I. La protección a la vida de las personas y de los que están por nacer.
 - II. Todos los chilenos pueden ocupar cargos públicos, sin importar requisitos mínimos.
 - III. Toda persona imputada de un delito tiene derecho a defensa jurídica, del "fiscal" correspondiente.
- A) Sólo I
 - B) Sólo II
 - C) Sólo III
 - D) Sólo I y III
 - E) I, II y III

50. Entre los organismos que forma la ciudadanía para procurar algunos fines específicos y defender sus intereses, podemos encontrar a
- I. las juntas de vecinos.
 - II. los centros de madres.
 - III. los sindicatos.
- A) Sólo I
 - B) Sólo II
 - C) Sólo I y II
 - D) Sólo II y III
 - E) I, II y III

EL LEGADO HISTÓRICO DE OCCIDENTE.

51. “Si un hijo golpea a su padre, se le cortarán las manos. Si un señor ha destruido el ojo de un miembro de la aristocracia, le destruirán su ojo. Si ha roto el hueso de otro señor, le romperán un hueso. Si ha destruido el ojo de un hombre común o quebrado el hueso de un hombre común, pagará una mina de plata. Si ha destruido el ojo del esclavo de un señor o quebrado el hueso, pagará la mitad de su valor. Si ha hecho caer de un golpe el diente de un señor de su mismo rango, le harán caer un diente de un golpe”.
- Las disposiciones anteriores
- I. pertenecen al código de Hamurabi.
 - II. evidencian un desarrollado concepto de igualdad entre los hombres.
 - III. constituyeron normas fundamentales en el Egipto de los faraones.
- A) Sólo I
 - B) Sólo II
 - C) Sólo I y II
 - D) Sólo I y III
 - E) Sólo II y III
52. “... tanto en Mesopotamia como en Egipto fue necesaria la implementación de nuevas e ingeniosas técnicas hidráulicas para obtener el control de las aguas de los ríos de la región y poder así potenciar sus cultivos. Si bien es cierto que ambos pueblos se desarrollaron en un medio geográfico similar, su organización administrativa no fue la misma. Por ejemplo, la gente de Mesopotamia se organizó en base a ciudades-estado autónomas; en cambio los egipcios se organizaron en un estado monárquico único”.
- Samuel N. Kramer. La historia comienza en Súmer.**
- A partir del texto anterior, usted puede establecer que
- A) el medio físico les obligó a inventar medios técnicos para el control del agua.
 - B) mientras Mesopotamia tuvo un clima desértico, Egipto tuvo un clima mediterráneo.
 - C) ambas civilizaciones tuvieron idéntico desarrollo político.
 - D) ambas civilizaciones tuvieron un importante desarrollo financiero.
 - E) en ambos casos la organización administrativa fue la misma.
53. Uno de los conceptos más afianzados en la cultura helénica antigua era el de "polis" o ciudad-estado. Éste significaba para los griegos
- A) que cada polis tenía su propia lengua y cultura.
 - B) una completa autonomía política.
 - C) una acentuada autarquía económica.
 - D) que todas las ciudades griegas formaban un Estado.
 - E) una alianza militar de todas las ciudades griegas.

54. “La historia del teatro en occidente tiene sus raíces en Atenas, entre los siglos VI y V a. C. Allí, en un pequeño hoyo de forma cóncava -que los protegió de los fríos vientos del Monte Parnaso y del calor del sol matinal- los atenienses celebraban los ritos en honor a Dionisio; estas primitivas ceremonias rituales irían luego evolucionando hacia el teatro, constituyendo uno de los grandes logros culturales de los griegos. Lo cierto es que este nuevo arte estuvo tan estrechamente asociado a la civilización griega que cada una de las ciudades y colonias más importantes contó con un teatro, cuya calidad era una señal de la importancia del poblado”.

El Teatro en Grecia. Eugenio Fernández.

A partir del texto, es correcto decir que

- I. las ciudades asignaban gran importancia al teatro.
- II. el teatro era eminentemente laico y mundano.
- III. el origen del teatro es claramente griego y particularmente ateniense.

- A) Sólo I
- B) Sólo II
- C) Sólo III
- D) Sólo I y II
- E) Sólo I y III

55. El mayor logro y mejor legado de Roma fue el Derecho. En consideración a este significativo aporte romano a la humanidad, es correcto afirmar que

- I. el primer texto legal fue el Corpus Juris Civilis o Código de Justiniano
- II. la última codificación del derecho romano fue realizada por Justiniano en el siglo
- III. VI. d. C.
- IV. desde un comienzo las leyes romanas eran iguales para todos sin importar condición social o económica.

- A) Sólo I
- B) Sólo II
- C) Sólo III
- D) Sólo I y II
- E) Sólo II y III

56. “En la época de los Antoninos, la Edad de Oro del Imperio, la humanidad disfrutó una de sus raras etapas de larga paz universal y de amplio bienestar. Además, el vasto desarrollo de la vida urbana en aquella época en la parte occidental del Imperio y especialmente en el valle del Po, en las Galias, en España y en el norte de África, las mejoras de los transportes, con el desarrollo de una impresionante red de caminos y la apertura de las rutas marítimas libres de piratería, habían creado un sistema completo, con intensas relaciones comerciales sobre un área inmensa. Este sistema se extendía desde el mar Báltico al Eufrates, desde los Cárpatos al Sahara y estaba regido por un único sistema político-económico”.

Secco Ellauri. Historia de Roma.

Según el texto anterior es correcto decir que

- A) el Imperio Romano bajo los Antoninos mantuvo luchas constantes para mantener la paz.
- B) el desarrollo económico sólo fue parcial y circunscrito a las Galias.
- C) los Antoninos reflejan una época de gran prosperidad económica, social y política.
- D) las relaciones comerciales fueron reducidas al norte de África.
- E) la población del siglo II vive en torno al campo y las áreas rurales.

57. Durante el siglo VII d.C. surgió en la Península Arábiga, una importante religión: el Islam, la que en la actualidad profesan millones de fieles. Esta obliga a una serie de mandamientos; de los que a continuación se mencionan, NO corresponde:

- A) Adorar únicamente imágenes de santos musulmanes.
- B) Hay un sólo Dios: Alá, y Mahoma es su profeta.
- C) Dar limosna o azaque a los pobres.
- D) Peregrinar al menos una vez en la vida hacia la Meca.
- E) Orar en privado o en público, pero mirando hacia la Meca.

58. “El 7 de abril, un jueves, se rindieron nuevamente homenajes al conde. En primer lugar, cumplieron los homenajes de la manera siguiente. El Conde pidió al futuro vasallo si deseaba convertirse, sin reserva, en su hombre, y éste respondió: “Así lo quiero”. Luego, sus manos unidas a las del conde, que las estrechó, se aliaron mediante un beso. En segundo lugar, aquel que rindió el homenaje comprometió su fe en estos términos: “Prometo por mi fe ser fiel, a partir de este instante, al conde Guillermo y guardarle ante todo y totalmente mi homenaje, de buena fe y sin malicia”. En tercer lugar, juró sobre las reliquias de los santos. En seguida, con la vara que tenía en la mano, el Conde les dio la investidura a todos aquellos que mediante este pacto le habían prometido seguridad, hecho homenaje y prestado juramento”.


Julia Nuñez. Relaciones Sociales en la Edad Media.

Del texto se desprende que la relación de vasallaje

- A) comprendía un gran compromiso de fidelidad.
B) es ante todo un convenio económico.
C) era un acto totalmente laico, que excluía cualquier sentido religioso.
D) correspondía a todo hombre, noble o campesino.
E) vinculaba a un hombre de por vida a la tierra
59. En la Europa Medieval, siglos IX al XI d.C., predominó el sistema feudal. En el ámbito socioeconómico, uno de sus aspectos más destacados fue
- A) una variada producción artesanal.
B) un sistema de intercambio comercial basado en la libre acuñación de monedas de oro y plata.
C) la movilidad social campesina sostenida por la competencia salarial establecida entre los señores.
D) la actitud de competencia de la burguesía para conquistar los numerosos mercados feudatarios.
E) la escasa participación del comercio como agente de intercambio de bienes.

60. La imagen adjunta nos permite identificar el Templo en el cual se congregan los musulmanes a orar a Alá, el que recibe el nombre de

- A) Kaaba.
B) Hégira.
C) Zigurat.
D) Mezquita.
E) Alcázar.



61. Forma(n) parte de los aspectos culturales del mundo medieval:

- I. El origen de las Universidades en Occidente.
II. El desarrollo del arte Románico y del Gótico.
III. El nacimiento de la Escolástica.

- A) Sólo I
B) Sólo II
C) Sólo III
D) Sólo I y II
E) I, II y III.

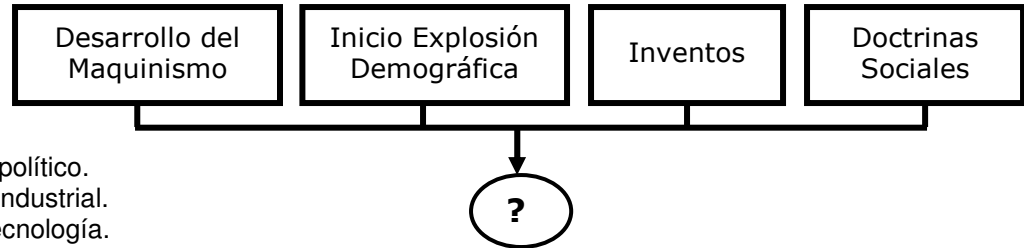
62. Durante la primera mitad del siglo XIV una serie de epidemias y hambrunas afectaron a Europa, culminando con la Peste Negra que se produjo en el año 1348. Ellas tuvieron repercusiones de orden demográfico, económico y social, entre las que se puede destacar

- A) la caída del valor de los salarios por efecto del mayor número de trabajadores disponibles.
B) el deseo de marchar a las Cruzadas para huir de la peste.
C) el aumento del tráfico mercantil para proveer de alimentos a las ciudades.
D) la disminución constante de la población en el continente europeo.
E) el aumento del poder de los señores feudales al disponer de mayores extensiones de tierras.

63. La Época Moderna tuvo particularidades políticas y sociales que demuestran el paso hacia otra etapa histórica. ¿Cuál de las siguientes proposiciones es característica de esta nueva época?
- A) Término del feudalismo y descentralización del Estado.
 - B) Formación del Estado Nacional y de las monarquías absolutas.
 - C) Absolutismo real y privilegios políticos de la nobleza.
 - D) Rompimiento entre la Iglesia romana y la ortodoxa.
 - E) Desaparición del antiguo régimen estamental.
64. “Se reafirmó el valor de las buenas obras, la presencia real de Cristo en la Eucaristía, el culto a la Virgen y a los Santos y se definieron los sacramentos. Se estableció como texto único la traducción de la Biblia de San Jerónimo llamada “La Vulgata”, se ratifica también la utilización del latín en la misa y el celibato eclesiástico”.
- Tales acuerdos alcanzados a mediados del siglo XVI por la Iglesia Católica se asocian a
- A) el nacimiento de la Compañía de Jesús.
 - B) la Encíclica Rerum Novarum.
 - C) la Contrarreforma.
 - D) las bulas Inter Çætera.
 - E) la declaración de fe de Carlos V.
65. “Séparse que hay dos maneras de combatir, una con las leyes y otra con la fuerza. La primera es propia de los hombres, y la segunda de los animales; pero, como muchas veces no basta la primera, es indispensable acudir a la segunda. De aquí que a los príncipes convenga saber aprovechar estas dos especies de armas... Se necesita ser zorro para conocer las trampas, y león para asustar a los lobos”.
- Nicolás Maquiavelo. El Príncipe.**
- El pensamiento de Maquiavelo ha sido sintetizado en una frase que resume muy bien ésta y otras de sus ideas; ella es
- A) El fin justifica los medios.
 - B) Haz el bien sin mirar a quien.
 - C) Pienso, luego existo.
 - D) En el amor y en la guerra, todo vale.
 - E) El hombre es un lobo para el hombre.
66. En la “Sociedad del Antiguo Régimen”, el orden social estuvo compuesto por tres estamentos, estados u órdenes. De aquellos, el llamado “Estado Llano” lo formaron
- A) burgueses y campesinos.
 - B) obreros y campesinos.
 - C) burgueses y proletarios.
 - D) bajo clero y campesinos.
 - E) nobles y eclesiásticos.
67. “El...fue una doctrina que se desarrolló especialmente en Francia. Sus principales representantes fueron los economistas Quesnay, Gournay y Turgot. Fue una doctrina agraria. La fuente de riqueza es la tierra. Sus defensores invocaban el principio del laissez-faire (dejar hacer) y señalaban que debía desaparecer toda intervención en la industria y el comercio, agregando que la única rama de la producción que debía pagar contribuciones era la agricultura ya que era la verdadera creadora de valor”.
- El texto permite identificar la doctrina económica del
- A) Liberalismo.
 - B) Mercantilismo.
 - C) Fisiocratismo.
 - D) Keynesianismo.
 - E) Marxismo.

68. El liberalismo se considera “hijo de la Revolución Francesa” y, a lo largo del siglo XIX sus principios se difunden en gran parte de Europa. Entre sus principales postulados destaca(n) la
- I. igualdad de todos los ciudadanos ante la ley.
 - II. consagración del principio de la propiedad privada.
 - III. la supremacía política-comercial de la burguesía.
- A) Sólo I
 B) Sólo II
 C) Sólo III
 D) Sólo I y II
 E) Sólo II y III

69. El concepto que sintetiza los elementos que a continuación se indican, es:



- A) Liberalismo político.
 B) Revolución Industrial.
 C) Ciencia y Tecnología.
 D) Ilustración y Cultura.
 E) Mercantilismo.
70. “No sólo las naciones compraban y vendían mutuamente en una escala hasta entonces desconocida; no sólo era posible que Inglaterra comprara cuatro quintas partes de su trigo, Francia una tercera parte de su carbón y Alemania la casi totalidad de su lana, sino que, gracias a la facilidad de transferencia y movilidad de las acciones de las Sociedades Anónimas, las naciones se habían convertido cada año en copropietarias de sus respectivos recursos en un grado muy considerable”.
- D. Thomson, Historia Mundial 1914-1918.**
- Bajo estos términos, la escena europea en 1914 era de
- A) una grave crisis industrial, con una inflación galopante.
 B) una gran concentración de bienes y capital, en manos inglesas.
 C) mínima influencia de la copropiedad en la producción lanera de Alemania.
 D) una gran concentración de materias primas americanas.
 E) un fuerte desarrollo de una economía liberal-capitalista.
71. “El fascismo quiere que el Estado sea fuerte, organizado y repose al mismo tiempo sobre una amplia base popular. El Estado fascista se ha atribuido el dominio de la economía y, por las instituciones corporativas, sociales y educativas que ha creado, el sentido del Estado alcanza las ramificaciones extremas del país; en el Estado circulan, encuadrados en sus organizaciones respectivas, todas las fuerzas políticas, económicas y espirituales de la nación”.
- El texto anterior nos permite identificar
- A) el pensamiento marxista desarrollado por Vladimir Lenin.
 B) el sentido totalitario de Hitler, desarrollado en su obra Mein Kamp.
 C) la ideología corporativista de Benito Mussolini.
 D) a Nicolás Maquiavelo y su obra El Príncipe.
 E) el pensamiento fascista de Francisco Franco.
72. ¿Cuál de las siguientes afirmaciones explica mejor el motivo de la Guerra Fría?
- A) La competencia por la mayor adquisición de armamento nuclear.
 B) El dominio sobre Europa después de la Segunda Guerra Mundial.
 C) El dominio por las regiones más afectadas por la Segunda Guerra Mundial.
 D) La crisis del fundamentalismo islámico.
 E) Una división ideológica y política en dos esferas.

73. Indique ¿cuál(es) de los siguientes acontecimientos se produjo(eron) después del término de la Segunda Guerra Mundial?
- I. División política y territorial de Alemania.
 - II. Formación del bloque socialista, especialmente en el contexto de la Europa Oriental.
 - III. Creación de la Sociedad de Naciones, como entidad supranacional que contribuyó a la estabilidad y a la paz universal.
- A) Sólo I
 - B) Sólo II
 - C) Sólo III
 - D) Sólo I y II
 - E) Sólo II y III
74. Entre los acontecimientos de mayor importancia ocurridos desde el término de la 2ª Guerra Mundial que se mencionan, figura uno que **no corresponde** a este período; señálelo:
- A) Formación de la Unión Soviética.
 - B) Desarrollo de la Guerra Fría.
 - C) Proceso de descolonización.
 - D) Caída del comunismo.
 - E) Creación del Estado de Israel.
75. ¿Cuál de las siguientes es(o son) característica(s) de la llamada **Globalización**?
- I. El Neoliberalismo.
 - II. La instantaneidad de las informaciones.
 - III. La disminución de los conflictos bélicos.
- A) Sólo I
 - B) Sólo II
 - C) Sólo I y II
 - D) Sólo II y III
 - E) I, II y III